

Aşağıdaki bölme işlemlerini yapınız.

	6	2	

	4	2	

	8	2	

1	0	2	

1	4	2	

1	6	2	

	6	3	

	9	3	

1	8	3	

1	5	3	

1	8	2	

1	2	3	

	4	4	

	2	2	

	8	4	

1	2	4	

1	6	4	

	5	5	

1	0	5	

1	5	5	

2	1	3	

2	0	4	

3	0	5	

2	4	4	

Aşağıdaki bölme işlemlerini yapınız.

$20 \overline{)5}$	$25 \overline{)5}$	$8 \overline{)2}$	$20 \overline{)4}$	$10 \overline{)2}$
--------------------	--------------------	-------------------	--------------------	--------------------

$15 \overline{)5}$	$6 \overline{)3}$	$25 \overline{)5}$	$12 \overline{)3}$	$6 \overline{)3}$
$6 \overline{)3}$	$20 \overline{)4}$	$15 \overline{)5}$	$20 \overline{)5}$	$16 \overline{)4}$
$12 \overline{)3}$	$12 \overline{)3}$	$8 \overline{)2}$	$10 \overline{)2}$	$12 \overline{)3}$
$16 \overline{)4}$	$6 \overline{)2}$	$15 \overline{)3}$	$6 \overline{)2}$	$9 \overline{)3}$

Aşağıdaki bölme işlemlerini yapınız.

Pelin 15 tane salatalığı 3 turşu bidonuna paylaşmak istiyor. Her bidona kaç salatalık düşer?

Ahmet 20 elmayı 4 kasaya paylaşmak istiyor. Her kasaya kaç elma düşer?

Melis 18 top dondurmaya 3 külahaya paylaşmak istiyor. Her külahaya kaç dondurma koyar?

Salih 16 şekerini 2 torbaya pay etmek istiyor. Her torbaya kaç şeker düşer?

Defne 16 sayfa kitabı 4 günde okumuştur. Buna göre Defne her gün ortalama kaç sayfa okumuştur?

Esmâ kümeden aldığı 25 yumurtayı 5 yumurta kefesine sıralamıştır. Her kefedeki kaç yumurta vardır?

Emine'nin kümesinde 4 tavuk vardır. Bir haftada 24 yumurta topladığına göre. Her tavuk kaç yumurta yumurtlamıştır?

Hasan ahırdaki ineklerden 24kg süt almıştır. Toplam 3 ineği olan Hasan her inekten kaç kg süt almıştır?

Özlem 28 metre kumaş ile dört perde dikti. Özlem her perde için kaç metre kumaş kullanmıştır?

5 vagonlu trende 45 yolcu olduğuna göre her vagona kaç yolcu vardır?

Aşağıdaki bölme işlemlerini yapınız.

Metin 24 liraya 4 taksitle ayakkabı almıştır. Metin her taksite kaç lira öder?

21kg zeytinyağı 3 bidona paylaştırmıştır. Her bidona kaç kg zeytinyağı konmalıdır?

Seçil $8 \times 3 = ?$ İşleminin sonucunu 4'e bölmek istiyor sonucu kaç bulur?

Mert 36 kitabı kitaplığına koymak istiyor. Kitaplık 4 raf ise her rafa kaç kitap konmalıdır?

3 arkadaş tuttuğu 27 balığı paylaşmışlardır. Her bir kişiye kaç balık düşer?

35 litre sütü 5 şişeye pay etmek isteyen Ayşe her şişeye kaç litre süt koymalıdır?


Melih bahçedeki elma ağaçlarının birincisinden 15 elma, ikincisinden de 9 elma toplayıp bu elmaları 4 kasaya paylaştırdı. Her kasada kaç elma olur?

Akif 6 karpuzu tarttı, toplam 18kg geldi. Buna göre her karpuz kaç kilodur?


28 sayfa kitabı her gün 7 sayfa okuyarak kaç günde bitirebiliriz?

3 arkadaş toplam 27 ceviz toplamıştır. Her çocuğa kaç ceviz düşer?

Aşağıdaki problemleri çözünüz



Melis yukarıdaki karpuzları 3 kasaya paylaştıracaktır. Her kasaya kaç karpuz düşer?




Ahmet yukarıdaki elmaları 4 sepete koyduğuna göre her sepette kaç elma vardır?



Semiha yukarıdaki elmaların 7 fazlasını 3 kişiye pay edecektir. Her kişiye kaç elma düşer?



Ömer
Ezgi
Ömer ile Ezgi'nin topladığı elmaları 3 kasaya koyacağımıza göre her kasaya kaç elma düşer?



Atakan topladığı elmaları 4 ağaçtan eşit topladığına göre Atakan her ağaçtan kaç elma toplamıştır?



Salih yukarıdaki muzları 6 maymuna paylaştığına göre her maymuna kaç muz vermiştir?

Aşağıdaki problemleri çözünüz



Mehmet yukarıdaki kirazları 4 tabağa koyduğuna göre her tabakta kaç kiraz olur?



Aslı yukarıdaki elmaları 3 katını 4 sepete koyduğuna göre her sepette kaç elma vardır?



Banu yukarıdaki cevizleri 2 sincaba pay ettiğine göre her sincaba kaç ceviz vermiştir?



Mert arabalarını 3 garaja koymak istiyor. Her garaja kaç araba koyar?



Anda 18 litre suyu yukarıdaki kovalara eşit paylaştırmıştır. Her kovada kaç litre su vardır?



Sadık yukarıdaki şekerleri 6 çocuğa paylaştığına göre her çocuğa kaç şeker vermiştir?



Ali kalemlerini 2 kalemliğe koyduğuna göre her kalemliğe kaç kalem koymuş olur?



Özlem yukarıdaki şekerleri 5 bardağa atmıştır. Her bardakta kaç şeker olur?