
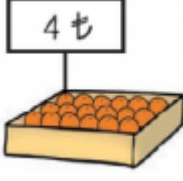
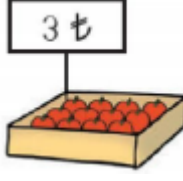
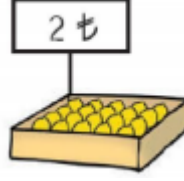


Aşağıdaki problemleri verilenlere göre yapınız.




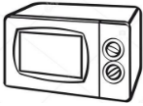






			
Buğday	Portakal	Domates	Limon

Ürünlerin fiyatları yukarıdaki gibidir. Aşağıdaki kişilerin alışveriş listesine ne kadar harcadıklarını bulunuz.

Ayça	Seda	İlknur
2kg buğday 3kg portakal 3kg domates	5kg limon 4kg portakal 3kg buğday	3kg limon 4kg domates 1kg buğday

Semih	Büşra	Mustafa
2kg portakal 3kg domates 4kg limon	3kg buğday 3kg domates 3kg portakal	2kg buğday 1kg portakal 3kg domates

Aşağıdaki ürünleri almak isteyen biri hangi paradan kaç tane kullanmalıdır?

	5TL	10TL	20TL	50TL	100TL	200TL
 Televizyon (500tl)						
 Çaydanlık (25tl)						
 Tava (15tl)						
 Fırın (135tl)						
 Fotoğraf mak. (245tl)						
 Çamaşır mak. (450tl)						
 Trampet (350tl)						
 Ütü (175tl)						
 Bilgisayar (600tl)						
 Çanta (85tl)						

Aşağıdaki problemleri verilenlere göre cevaplayınız.

						
12 lira	25 lira	54 lira	13 lira	3 lira	72 lira	2 lira

Bir ütü, bir oyuncak uçak alan kişi kaç lira ödemelidir.	Bir kol saati, bir cezve alan kişi kaç lira ödemelidir.
Bir ayakkabı, bir cezve alan kişi kaç lira ödemelidir.	Bir ayakkabı, bir oyuncak uçak alan kişi kaç lira ödemelidir.
Bir süt, bir oyuncak uçak alan kişi kaç lira ödemelidir.	Bir kalem, bir süt alan kişi kaç lira ödemelidir.
Bir kol saati, bir ütü alan kişi kaç lira ödemelidir.	Bir kol saati, bir oyuncak uçak alan kişi kaç lira ödemelidir.
Bir cezve, bir süt, bir kalem alan kişi kaç lira ödemelidir.	Bir cezve, bir oyuncak uçak, bir ütü alan kişi kaç lira ödemelidir.
Bir kol saati, bir ütü, bir kalem alan kişi kaç lira ödemelidir.	Bir ayakkabı, bir oyuncak uçak, bir kalem alan kişi kaç lira ödemelidir.

Aşağıdaki problemleri verilenlere göre cevaplayınız.



Yukarıdaki ürünlerden fiyatı en fazla olan hangisidir?	Yukarıdaki ürünlerden fiyatı en az olan hangisidir?
Yukarıdaki ürünlerden hangileri 10 liradan daha ucuzdur?	Yukarıdaki ürünlerden hangileri 10 liradan daha pahalıdır?
20 lirası olan birisi yukarıdaki hangi ürünleri alabilir?	Okul eşyası alan Melis Sare toplam kaç lira öder?
Ahmet'e babası bir kol saati alıp, birde dondurma ısmarlamıştır. Ahmet'in babası kaç lira harcamıştır?	Zafer yukarıdaki ürünlerden dondurma ve silgi alıp, satıcıya 20TL verdiği göre kaç lira para üstü alır?
Mehmet'in 53 lirası vardır. Kol saati almak isteyen Mehmet ne kadar daha para biriktirmelidir?	Semiha'nın cebinde 95 lirası vardır. Kol saati, kalemlik ve kalem aldığına göre Semiha'nın kaç lirası kalır?
Bir kol saati, bir silgi, bir ekmek alan kişi kaç lira ödemelidir.	Bir dondurma, bir kol saati, bir ekmek alan kişi kaç lira ödemelidir.